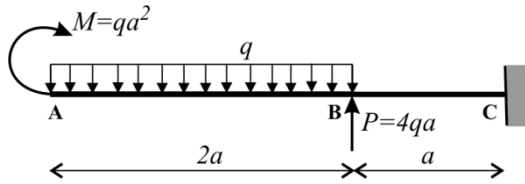
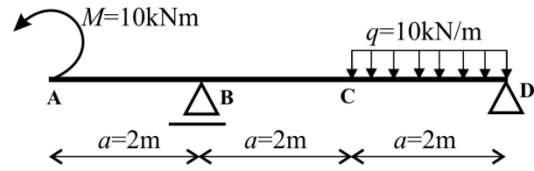


Dla przedstawionych konstrukcji narysuj wykresy sił podłużnych, poprzecznych i momentów zginających. W przedziałach gdzie przyłożone jest obciążenie ciągłe zapisz formuły funkcji sił przekrojowych.

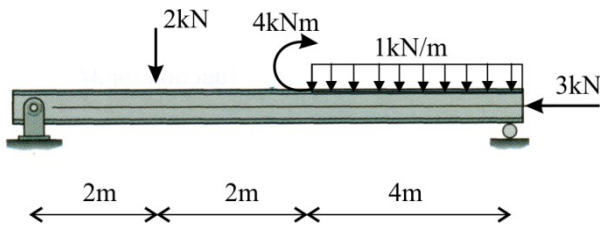
Rys.1



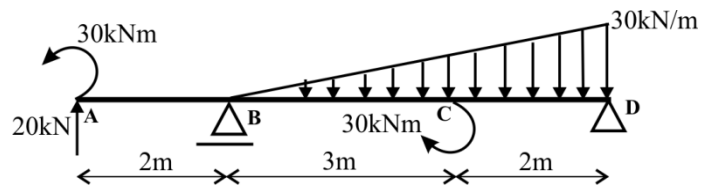
Rys.2



Rys.3



Rys.4



Rys.5

